

أجوبة امتحان الدورة العادية 2013

التمرين الأول

1

$$\begin{aligned} & \text{لدينا : } \begin{cases} A(-1; 1; 0) \\ B(1; 0; 1) \\ O(0; 0; 0) \end{cases} \text{ إذن : } \begin{cases} \overline{OA}(-1; 1; 0) \\ \overline{OB}(1; 0; 1) \end{cases} \\ \overline{OA} \wedge \overline{OB} &= \begin{pmatrix} -1 \\ 1 \\ 0 \end{pmatrix} \wedge \begin{pmatrix} 1 \\ 0 \\ 1 \end{pmatrix} \text{ ومنه :} \\ &= \begin{vmatrix} 1 & 0 & 1 \\ 0 & 1 & 1 \\ -1 & 1 & 0 \end{vmatrix} \vec{i} - \begin{vmatrix} -1 & 1 \\ 1 & 0 \end{vmatrix} \vec{j} + \begin{vmatrix} -1 & 1 \\ 1 & 0 \end{vmatrix} \vec{k} \\ &= \vec{i} + \vec{j} - \vec{k} \end{aligned}$$

لتكن $M(x; y; z)$ نقطة من المستوى (OAB) .
نعلم أن المتجهة $\overline{OA} \wedge \overline{OB}$ متجهة منظمية على المستوى (OAB) إذن فهي عمودية على جميع متجهات المستوى (OAB) إذن المتجهتان \overline{OM} و $\overline{OA} \wedge \overline{OB}$ متعامدتان يعني ، باستعمال الجداء السلمي : $\overline{OM} \cdot (\overline{OA} \wedge \overline{OB}) = 0$
أي : $\begin{pmatrix} x \\ y \\ z \end{pmatrix} \cdot \begin{pmatrix} 1 \\ 1 \\ -1 \end{pmatrix} = 0$ يعني : $x + y - z = 0$



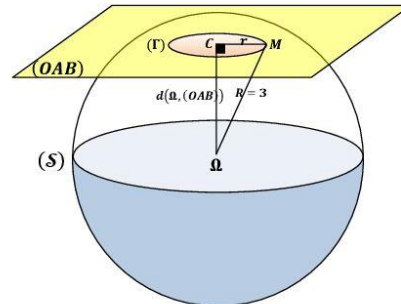
و هذه الكتابة الأخيرة تميز نقط المستوى (OAB) إذن فهي معادلة ديكرتية للمستوى (OAB) .

1

لدينا $(OAB) : x + y - z = 0$ و $\Omega(1; 1; -1)$

$$d(\Omega, (OAB)) = \frac{|1 + 1 - (-1)|}{\sqrt{1^2 + 1^2 + (-1)^2}} = \frac{3}{\sqrt{3}} = \sqrt{3}$$

و نعلم أن (S) فلكة مركزها Ω شعاعها $R = 3$.
نلاحظ إذن أن : $\sqrt{3} < 3$ يعني : $d(\Omega, (OAB)) < \text{Rayon}(S)$
إذن المستوى (OAB) يقطع الفلكة (S) وفق دائرة (Γ) مركزها $C(\alpha; \beta; \gamma)$ شعاعها r .
لتحديد قيمة الشعاع r نستعين بالشكل التالي :



من خلال هذا الشكل نلاحظ أن : $(\Omega C) \perp (OAB)$ إذن : $(\Omega C) \perp (CM)$ نستطيع إذن تطبيق مبرهنة فيثاغورس في المثلث القائم الزاوية في C

$$\begin{aligned} & \text{إذن : } \Omega M^2 = \Omega C^2 + CM^2 \\ & \text{يعني : } 3^2 = (\sqrt{3})^2 + r^2 \text{ يعني : } r = \sqrt{3^2 - (\sqrt{3})^2} = \sqrt{6} \end{aligned}$$

2

ليكن (Δ) المستقيم المار من Ω و العمودي على المستوى (OAB) .
و لتكن $M(x; y; z)$ نقطة من (Δ) .
بما أن (Δ) عمودي على (OAB) و $\overline{OA} \wedge \overline{OB}$ منظمية على (OAB) فإن أي متجهة موجهة لـ (Δ) تكون مستقيمة مع المتجهة $\overline{OA} \wedge \overline{OB}$ لدينا \overline{OM} متجهة موجهة للمستقيم (Δ) .

إذن المتجهتان $\overline{OA} \wedge \overline{OB}$ و \overline{OM} مستقيمتان .
يعني : $(\exists t \in \mathbb{R}) ; \overline{OM} = t(\overline{OA} \wedge \overline{OB})$

$$\text{أي : } (\exists t \in \mathbb{R}) ; \begin{pmatrix} x-1 \\ y-1 \\ z+1 \end{pmatrix} = t \begin{pmatrix} 1 \\ 1 \\ -1 \end{pmatrix}$$

$$\text{يعني : } (\Delta) : \begin{cases} x-1 = t \\ y-1 = t \\ z+1 = -t \end{cases} ; (t \in \mathbb{R})$$

$$\text{يعني : } (\Delta) : \begin{cases} x = t+1 \\ y = t+1 \\ z = -t-1 \end{cases} ; (t \in \mathbb{R})$$

و هذه الكتابة الأخيرة عبارة عن تمثيل بارامترى للمستقيم (Δ) .

2

بما أن (Δ) مار من Ω و عمودي على (OAB) فإن (Δ) و (ΩC) منطبقان
يعني : $C(\alpha; \beta; \gamma) \in (\Delta)$

و لدينا من جهة ثانية : $C(\alpha; \beta; \gamma) \in (OAB)$

نحصل إذن على النظمة التالية :
 $\begin{cases} C(\alpha; \beta; \gamma) \in (\Delta) \\ C(\alpha; \beta; \gamma) \in (OAB) \end{cases}$

$$\text{و نعلم أن : } (\Delta) : \begin{cases} x = t+1 \\ y = t+1 \\ z = -t-1 \end{cases} ; (t \in \mathbb{R})$$

$$(OAB) : x + y - z = 0$$

$$\begin{cases} \alpha = 1+t \\ \beta = 1+t \\ \gamma = -1-t \end{cases} \text{ إذن نعوض } x \text{ و } y \text{ و } z \text{ بالمجاهل } \alpha \text{ و } \beta \text{ و } \gamma \text{ نجد :} \\ \alpha + \beta - \gamma = 0$$

نعوض بعد ذلك α و β و γ بالتعابير التي تضم البارامتر t في آخر معادلة نجد : $(1+t) + (1+t) - (-1-t) = 0$
و نحل هذه المعادلة الظرفية من الدرجة الأولى بمجهول واحد نجد :

$$\begin{cases} 3t + 3 = 0 \text{ أي : } t = -1 \\ \alpha = 1 - 1 = 0 \\ \beta = 1 - 1 = 0 \\ \gamma = -1 + 1 = 0 \end{cases}$$

إذن النقطة C التي نبحث عنها ما هي إلا أصل المعلم .
و بالتالي (Γ) دائرة مركزها O أصل المعلم .

التمرين الثاني

1

$$(1+i)(-3+6i) = -3+6i-3i-6 = -9+3i$$

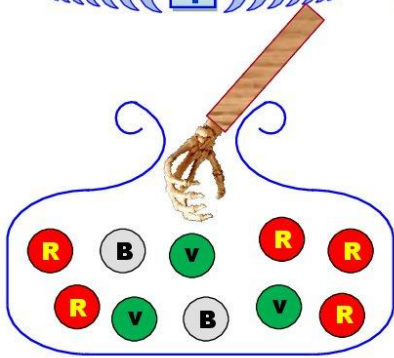
الهدف من هذه المتساوية هو توظيفها أثناء حساب $\frac{c-a}{b-a}$

$$\frac{c-a}{b-a} = \frac{(-2+5i)-(7+2i)}{(4+8i)-(7+2i)} = \frac{-9+3i}{-3+6i}$$

$$= \frac{(1+i)(-3+6i)}{(-3+6i)} = (1+i)$$

التمرين الثالث

1



عندما نسحب عشوائيا و في آن واحد أربع كرات من صندوق يحتوي على 10 كرات فإنه توجد C_{10}^4 نتيجة ممكنة .
يعني : $card(\Omega) = C_{10}^4 = 210$ بحيث Ω هو كون امكانيات هذه التجربة العشوائية .

$$p(A) = p \left(\begin{array}{l} \text{كرتان} \\ \text{حمراوين} \\ \text{و كرتان} \\ \text{خضراوين} \end{array} \right) = \frac{card \left(\begin{array}{l} \text{كرتان} \\ \text{حمراوين} \\ \text{و كرتان} \\ \text{خضراوين} \end{array} \right)}{card(\Omega)}$$

$$= \frac{C_5^2 \times C_3^2}{210} = \frac{10 \times 3}{210} = \frac{1}{7}$$

ولدينا كذلك : $p(B) = p \left(\begin{array}{l} \text{لا توجد أية} \\ \text{كرة بيضاء} \\ \text{مما سحبناه} \end{array} \right)$

$$\left(\begin{array}{l} \text{لا توجد أية} \\ \text{كرة بيضاء} \\ \text{مما سحبناه} \end{array} \right) = \left(\begin{array}{l} \text{توجد على الأقل} \\ \text{كرة بيضاء من} \\ \text{بين الكرات} \\ \text{الأربع المسحوبة} \end{array} \right)$$

$$= \left(\begin{array}{l} \text{كرتان بيضاوين} \\ \text{واحدة و ثلاث} \\ \text{كرات غير ذلك} \end{array} \right) \text{ أو } \left(\begin{array}{l} \text{كرتان تخالفان} \\ \text{واللون الأبيض} \end{array} \right)$$

$$p \left(\begin{array}{l} \text{توجد على الأقل} \\ \text{كرة بيضاء من} \\ \text{بين الكرات} \\ \text{الأربع المسحوبة} \end{array} \right) = p \left(\begin{array}{l} \text{كرتان بيضاوين} \\ \text{واحدة و ثلاث} \\ \text{كرات غير ذلك} \end{array} \right) + p \left(\begin{array}{l} \text{كرتان تخالفان} \\ \text{واللون الأبيض} \end{array} \right)$$

$$= \frac{C_2^2 \times C_8^2}{210} + \frac{C_2^2 \times C_8^2}{210} = \frac{2 \times 56}{210} + \frac{28}{210} = \frac{2}{3}$$

$$p(B) = 1 - p(\bar{B}) = 1 - \frac{2}{3} = \frac{1}{3}$$

2

ليكن X المتغير العشوائي الذي يربط كل سحبة (يعني سحب أربع كرات في آن واحد) بعند الكرات المسحوبة .
يضم الصندوق كرتين بيضاوين و 8 كرات تخالف اللون الأبيض .
إذن عندما نسحب في آن واحد أربع كرات فإنه يُحتمل الحصول على كرات كلها تخالف الأبيض ، أو الحصول على كرة بيضاء واحدة و الباقي يخالف الأبيض ، أو الحصول على كرتين بيضاوين و كرتين غير ذلك .
إذن القيم التي يأخذها المتغير العشوائي هي : 0 و 1 و 2
أو بتعبير أجملي : $X(\Omega) = \{0; 1; 2\}$

1 ب

$$\left| \frac{c-a}{b-a} \right| = |1+i| \quad \text{إذن} \quad \frac{c-a}{b-a} = 1+i$$

$$\frac{|c-a|}{|b-a|} = \sqrt{1^2+1^2} = \sqrt{2} \quad \text{يعني}$$

$$|c-a| = \sqrt{2} \cdot |b-a| \quad \text{إذن}$$

$$AC = \sqrt{2} \cdot AB \quad \text{أي}$$

$$\frac{c-a}{b-a} = 1+i \quad \text{لدينا : من جهة ثالثة ،}$$

لنكتب العدد العقدي $(1+i)$ على الشكل المتلثي :

$$(1+i) = \sqrt{2} \left(\frac{\sqrt{2}}{2} + i \frac{\sqrt{2}}{2} \right)$$

$$= \sqrt{2} \left(\cos\left(\frac{\pi}{4}\right) + i \sin\left(\frac{\pi}{4}\right) \right) = \sqrt{2} e^{i\frac{\pi}{4}}$$

$$\frac{c-a}{b-a} = \sqrt{2} e^{i\frac{\pi}{4}} \quad \text{إذن}$$

$$\arg\left(\frac{c-a}{b-a}\right) \equiv \arg\left(\sqrt{2} e^{i\frac{\pi}{4}}\right) [2\pi]$$

$$\arg\left(\frac{c-a}{b-a}\right) \equiv \frac{\pi}{4} [2\pi] \quad \text{يعني}$$

$$\arg(\overline{AB}, \overline{AC}) \equiv \frac{\pi}{4} [2\pi] \quad \text{أي}$$

إذن قياس الزاوية الموجبة $(\overline{AB}, \overline{AC})$.

2 ا

$$\mathcal{R}_B\left(\frac{\pi}{2}\right) : (P) \mapsto (P)$$

$$M(z) \mapsto M'(z')$$

نتطلق من المعطى : $\mathcal{R}(A) = D$

إذن حسب التعريف العقدي للدوران نكتب :

$$(aff(D) - aff(B)) = e^{i\frac{\pi}{2}} (aff(A) - aff(B))$$

$$(d-b) = e^{i\frac{\pi}{2}} (a-b) \quad \text{يعني}$$

$$d-4-8i = i(7+2i-4-8i) \quad \text{يعني}$$

$$d = 7i - 2 - 4i + 8 + 4 + 8i \quad \text{يعني}$$

$$d = 10 + 11i \quad \text{أي}$$

2 ب

$$\frac{d-c}{b-c} = \frac{(10+11i) - (-2+5i)}{(4+8i) - (-2+5i)}$$

$$= \frac{12+6i}{6+3i} = \frac{2(6+3i)}{(6+3i)} = 2$$

$$(d-c) = 2(b-c) \quad \text{و منه} \quad \frac{d-c}{b-c} = 2$$

$$\overline{CD} = 2\overline{CB} \quad \text{و باستعمال المتجهات نكتب :}$$

إذن النقط D و B و C نقط مستقيمية .

يمكن أن نجيب بطريقة أخرى مبينة كما يلي :

$$\arg\left(\frac{d-c}{b-c}\right) \equiv 0 [2\pi] \quad \text{إذن} \quad \frac{d-c}{b-c} = 2$$

$$\arg(\overline{CB}, \overline{CD}) \equiv 0 [2\pi] \quad \text{يعني}$$

إذن النقط D و B و C نقط مستقيمية .



2 أ

ليكن n عنصرا من \mathbb{N}^* . لدينا: $v_n = \frac{5}{5 - u_n}$

إذن: $v_{n+1} = \frac{5}{5 - u_{n+1}} = 5 \times \left(\frac{1}{5 - u_{n+1}} \right)$

$= 5 \times \left(\frac{5 + (5 - u_n)}{5(5 - u_n)} \right) = \frac{5 + (5 - u_n)}{(5 - u_n)} = \frac{10 - u_n}{5 - u_n}$

إذن: $(\forall n \in \mathbb{N}^*); v_{n+1} = \frac{10 - u_n}{5 - u_n}$

ومنه: $v_{n+1} - v_n = \frac{10 - u_n}{5 - u_n} - \frac{5}{5 - u_n}$

$= \frac{10 - u_n - 5}{5 - u_n} = \frac{5 - u_n}{5 - u_n} = 1$

2 ب

بما أن: $(\forall n \in \mathbb{N}^*); v_{n+1} - v_n = 1$

يعني: $(\forall n \in \mathbb{N}^*); v_{n+1} = v_n + 1$

فإن: $(v_n)_{n \in \mathbb{N}^*}$ متتالية حسابية أساسها 1.

إذن حددها العام يكتب على الشكل:

$(\forall n \in \mathbb{N}^*); v_n = v_1 + (n - 1)1$

لدينا: $v_1 = \frac{5}{5 - u_1} = \frac{5}{5 - 0} = 1$

إذن: $(\forall n \in \mathbb{N}^*); v_n = 1 + (n - 1)1$

أي: $(\forall n \in \mathbb{N}^*); v_n = n$

وبما أن: $(\forall n \in \mathbb{N}^*); v_n = \frac{5}{5 - u_n}$

فإن: $(\forall n \in \mathbb{N}^*); n = \frac{5}{5 - u_n}$

يعني: $(\forall n \in \mathbb{N}^*); 5n - nu_n = 5$

يعني: $(\forall n \in \mathbb{N}^*); nu_n = 5n - 5$

يعني: $(\forall n \in \mathbb{N}^*); u_n = 5 - \frac{5}{n}$



2 ج

$\lim_{n \rightarrow \infty} (u_n) = \lim_{n \rightarrow \infty} \left(5 - \frac{5}{n} \right) = 5 - \frac{5}{\infty} = 5 - 0 = 5$

التمرين الخامس

1

$\lim_{x \rightarrow +\infty} f(x) = \lim_{x \rightarrow +\infty} (x - 2)^2 e^x = (+\infty - 2)^2 e^{+\infty}$

$= (+\infty) e^{+\infty} = (+\infty) \times (+\infty) = +\infty$

$\lim_{x \rightarrow +\infty} \frac{f(x)}{x} = \lim_{x \rightarrow +\infty} \frac{(x - 2)^2 e^x}{x} = \lim_{x \rightarrow +\infty} (x - 2)^2 \left(\frac{e^x}{x} \right)$

$= (+\infty)^2 \times (+\infty) = +\infty$

نحصل إذن على النهايتين التاليتين:

$\begin{cases} \lim_{x \rightarrow +\infty} f(x) = +\infty \\ \lim_{x \rightarrow +\infty} \frac{f(x)}{x} = +\infty \end{cases}$

و من هاتين النهايتين نستنتج أن (∞) يقبل فرعا شلجيميا في اتجاه محور الأرتييب بجوار $+\infty$.

2 ب

لدينا الحدث $[X = 1]$ هو الحصول بالضبط على كرة بيضاء واحدة و ثلاث كرات مخالفة للون الأبيض.

إذن: $p[X = 1] = \frac{C_2^1 \times C_8^3}{210} = \frac{2 \times 56}{210} = \frac{8}{15}$

نقصد بقانون احتمال المتغير العشوائي X احتمال كل قيمة من قيم هذا المتغير العشوائي.

لدينا حسب السؤال (1): $p(B) = \frac{1}{3}$ إذن: $p[X = 0] = \frac{1}{3}$

يكفي الآن أن نحسب $p[X = 2]$ هو الحصول بالضبط على كرتين بيضاوين و كرتين تخالفين الأبيض

إذن: $p[X = 2] = \frac{C_2^2 \times C_8^2}{210} = \frac{28}{210} = \frac{2}{15}$

و بالتالي قانون احتمال المتغير العشوائي X هو التطبيق P_X المعرفة بما يلي:

$P_X : \{0; 1; 2\} \mapsto [0; 1]$

$0 \mapsto P_X(0) = \frac{1}{3}$

$1 \mapsto P_X(1) = \frac{8}{15}$

$2 \mapsto P_X(2) = \frac{2}{15}$

و للتأكد من صحة الجواب يجب أن نتحقق من أن:

$P_X(0) + P_X(1) + P_X(2) = 1$

التمرين الرابع

1

ليكن $n \in \mathbb{N}^*$. لدينا:

$5 - u_{n+1} = 5 - \frac{25}{10 - u_n} = \frac{50 - 5u_n - 25}{10 - u_n}$

$= \frac{25 - 5u_n}{10 - u_n} = \frac{5(5 - u_n)}{5 + (5 - u_n)}$

لنبين بالتراجع صحة العبارة (P_n) المعرفة بما يلي:

$(P_n) : (\forall n \in \mathbb{N}^*); 5 - u_n > 0$

لدينا: $5 - 0 > 0$ يعني: $5 - u_1 > 0$ إذن العبارة (P_1) صحيحة.

نفترض أن: $(\forall n \in \mathbb{N}^*); 5 - u_n > 0$

إذن الكمية $(5 - u_n)$ كمية موجبة قطعاً.

و منه فإن الكيتمان $5(5 - u_n)$ و $5 + (5 - u_n)$ موجبتان قطعاً.

إذن $\frac{5(5 - u_n)}{5 + (5 - u_n)}$ كمية موجبة قطعاً باعتبارها خارج كيتين موجبتين قطعاً

أي: $(\forall n \in \mathbb{N}^*); \frac{5(5 - u_n)}{5 + (5 - u_n)} > 0$

أي: $(\forall n \in \mathbb{N}^*); 5 - u_{n+1} > 0$

إذن العبارة (P_{n+1}) صحيحة.



نحصل إذن على ما يلي: $\{ (P_1) \text{ est vraie} \}$

$\{ (P_n) \text{ implique } (P_{n+1}); (\forall n \in \mathbb{N}^*) \}$

إذن حسب مبدأ التراجع: $(P_n) \text{ est toujours vraie}$

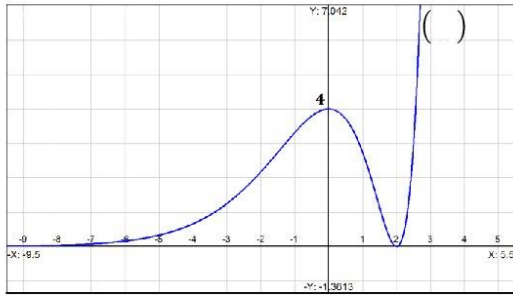
أي: $(\forall n \in \mathbb{N}^*); 5 - u_n > 0$



4 أ

ليكن x عنصرا من \mathbb{R} لدينا : $f'(x) = x(x-2)e^x$
 إذن : $f''(x) = (x-2)e^x + xe^x + x(x-2)e^x$
 ملاحظة : $(uvw)' = u'vw + uv'w + uvw'$
 وبالتالي : $f''(x) = (x^2-2)e^x$ ($\forall x \in \mathbb{R}$)
 ونعلم أن : $e^x > 0$ ($\forall x \in \mathbb{R}$)
 إذن إشارة $f''(x)$ تتعلق فقط بإشارة (x^2-2) ونلاحظ أن يقبل
 نقطتي انعطاف أفصولا هما حلا المعادلة $x^2-2=0$
 يعني : $(x-\sqrt{2})(x+\sqrt{2})=0$
 أي : $x = \sqrt{2}$ أو $x = -\sqrt{2}$
 إذن المنحنى يقبل نقطتي انعطاف أفصولا هما $-\sqrt{2}$ و $\sqrt{2}$.

4 ب



5 أ

نعتبر الدالة H المعرفة على \mathbb{R} بما يلي : $H(x) = (x-1)e^x$
 نلاحظ أن H دالة متصلة على \mathbb{R} لأنها عبارة عن تشكيلة منسجمة
 من الدوال المتصلة على \mathbb{R} .

ولدينا : $H'(x) = ((x-2)e^x)'$
 $= e^x + (x-1)e^x = xe^x = h(x)$

إذن الدالة H دالة أصلية للدالة h على \mathbb{R} .

$$\int_0^1 \frac{x e^x}{u v'} dx = [uv]_0^1 - \int_0^1 u' v dx = [x e^x]_0^1 - [e^x]_0^1$$

$$= (e-0) - (e-1) = 1$$

5 ب

نحسب التكامل التالي باستعمال تقنية المكاملة بالأجزاء .

$$\int_0^1 \frac{x^2 e^x}{u v'} dx = [x^2 e^x]_0^1 - \int_0^1 2x e^x dx$$

$$= [x^2 e^x]_0^1 - 2 \int_0^1 x e^x dx$$

$$= (e-0) - 2 \times 1 = e-2$$

إذن : $\int_0^1 x^2 e^x dx = e-2$

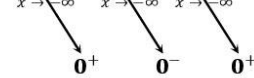
2 أ

ليكن x عنصرا من \mathbb{R} .
 $f(x) = (x-2)^2 e^x = (x^2-4x+4)e^x$
 $= x^2 e^x - 4x e^x + 4e^x$

2 ب

$$\lim_{x \rightarrow -\infty} f(x) = \lim_{x \rightarrow -\infty} x^2 e^x - 4x e^x + 4e^x = 0$$

محور الأفاصل مقارب أفقي للمنحنى () بجوار $-\infty$



ملاحظة : $\lim_{x \rightarrow -\infty} x^n e^x = \begin{cases} 0^+ & \text{si } n \text{ est pair} \\ 0^- & \text{si } n \text{ est impair} \end{cases}$

3 أ

ليكن x عنصرا من \mathbb{R} لدينا : $f(x) = (x-2)^2 e^x$
 إذن : $f'(x) = 2(x-2)e^x + (x-2)^2 e^x$
 $= (x-2)e^x(2 + (x-2))$
 $= (x-2)xe^x$

إذن : $f'(x) = x(x-2)e^x$ ($\forall x \in \mathbb{R}$)

3 ب

لدينا : $f'(x) = x(x-2)e^x$ ($\forall x \in \mathbb{R}$)

نعلم أن : $e^x > 0$ ($\forall x \in \mathbb{R}$)

إذن إشارة $f'(x)$ تتعلق بإشارتي x و $(x-2)$ و يُبين الجدول التالي إشارة $f'(x)$.



x	$-\infty$	0	2	$+\infty$
x	-	0	+	+
$x-2$	-	-	0	+
$f'(x)$	+	0	-	+
f	0	4	0	$+\infty$

إذن من خلال هذا الجدول نستنتج أن f تزايدية على كل من المجالين $]-\infty; 0[$ و $]2; +\infty[$ و تناقصية على المجال $]0; 2[$.



5

لتكن A مساحة الجزء من المستوى المحصور بين المنحنى (\mathcal{C}) ومحور

الأفصائل والمستقيمين $x = 1$ و $x = 0$. نحسب A باستعمال التكامل التالي : $A = \int_0^1 |f(x)| dx$.

نعلم أن الدالة f تناقصية على $[0; 2]$.

إذن فهي تناقصية على المجال $[0; 1]$.

إذا كان : $0 \leq x \leq 1$ فإن : $f(0) \geq f(x) \geq f(1)$

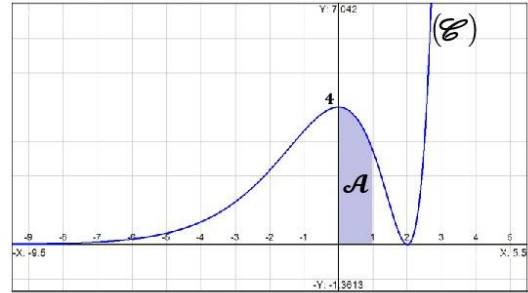
ومنه : $4 \geq f(x) \geq e \geq 0$

إذن : $f(x)$ كمية موجبة قطعاً على المجال $[0; 1]$.

ومنه : $\forall x \in [0; 1]; |f(x)| = f(x)$

و بلرجوع إلى المساحة A نكتب :

$$\begin{aligned} A &= \int_0^1 |f(x)| dx = \int_0^1 f(x) dx \\ &= \int_0^1 (x^2 e^x - 4x e^x + 4e^x) dx \\ &= \int_0^1 x^2 e^x dx - 4 \int_0^1 x e^x dx + 4 \int_0^1 e^x dx \\ &= (e - 2) - 4 \times 1 + 4[e^x]_0^1 \\ &= (e - 2) - 4 + 4(e - 1) = 5e - 10 \\ &= 5(e - 2) \approx 3,59 \text{ cm}^2 \end{aligned}$$



6

المعادلة : $x^2 = e^{-x} + 4x - 4$

تصبح : $x^2 - 4x + 4 = e^{-x}$

نضرب طرفي هذه المعادلة في الكمية الموجبة قطعاً e^{-x} نجد :

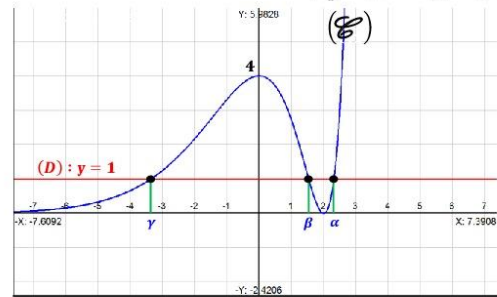
$$e^x (x^2 - e^{-x} - 4x + 4) = 0$$

يعني : $x^2 e^x - 4x e^x + 4e^x = 1$ يعني : $f(x) = 1$

إذن حلول هذه المعادلة الأخيرة هي أفصائل نقط تقاطع المنحنى (\mathcal{C})

و المستقيم $(D) : y = 1$.

و هو ما يُبينه الشكل التالي :



إذن : المعادلة تقبل ثلاثة حلول وهي α و β و γ .